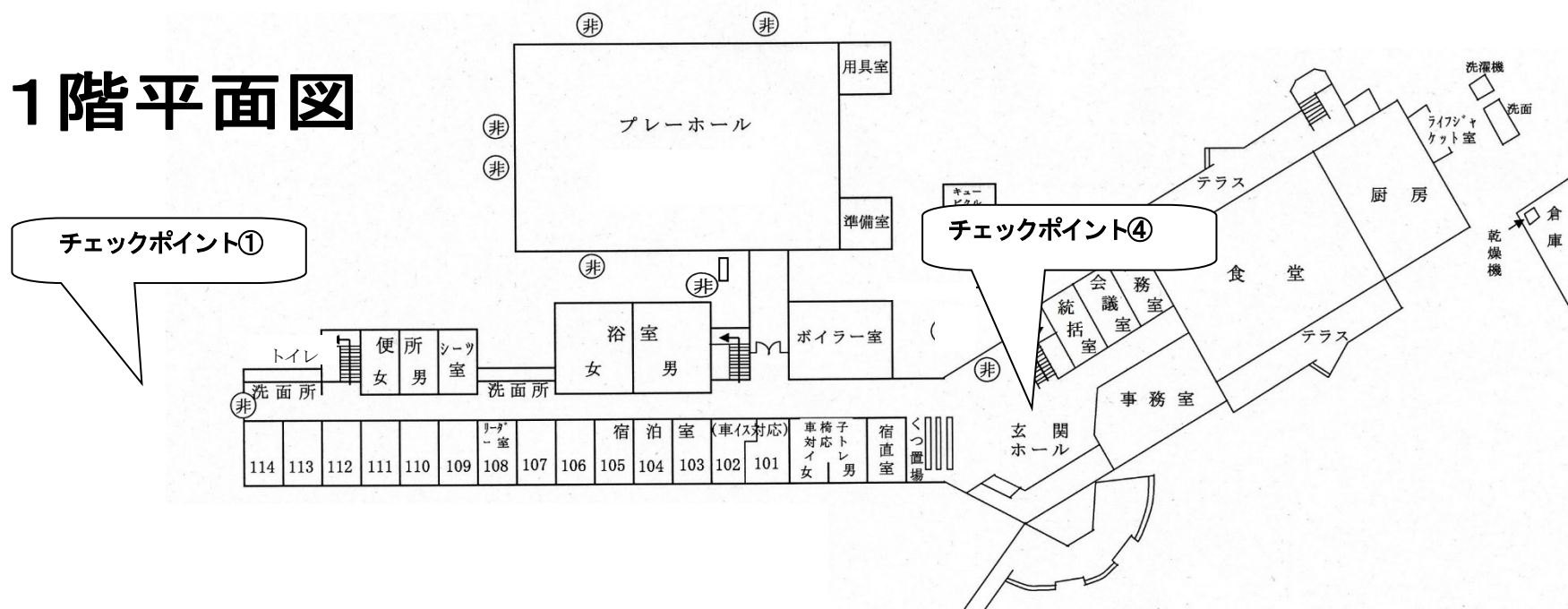


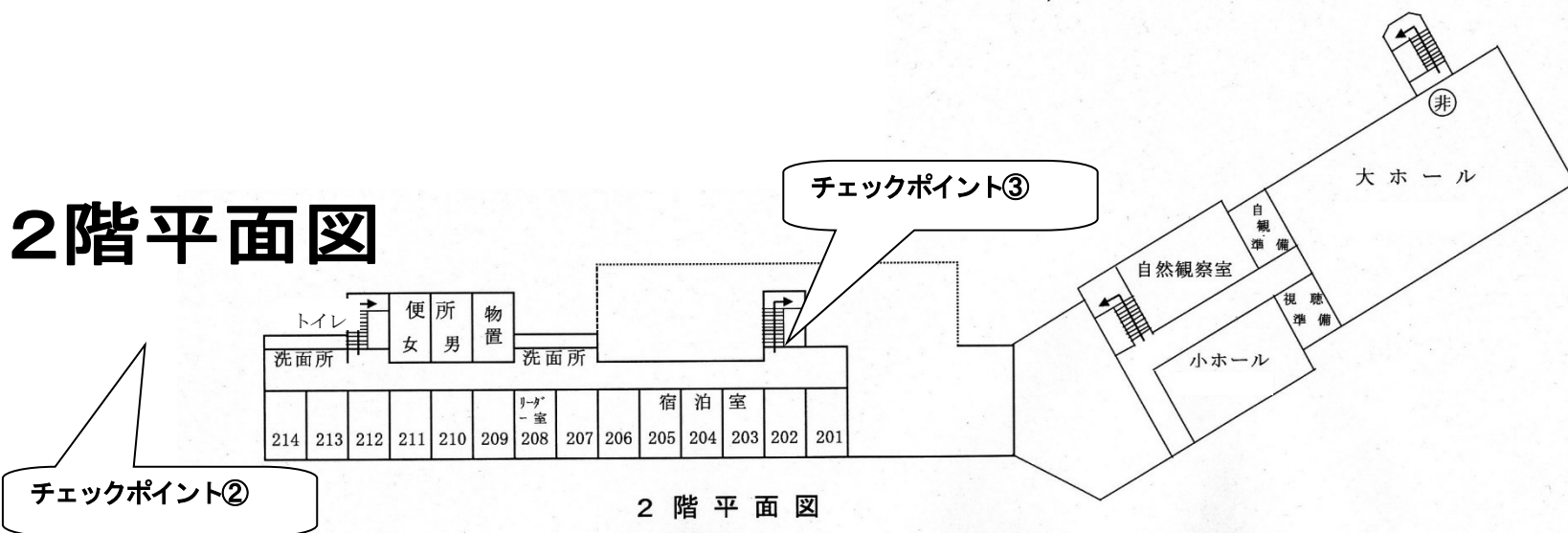
館内オリエンテーリング

チェックポイントの場所は、例です。

1階平面図



2階平面図



館内オリエンテーリング問題A (見本)

廊下にある写真の場所を探して、解答用紙に答えを記入してください。

※活動場所は館内廊下だけになります。必要のない部屋には入らないようにしましょう。

※活動中は他の団体の迷惑にならないように、騒いだり走ったりしないようにしましょう。



① この星座の名前は？



② この魚の名前は？



③ この魚の名前は？




④ この色紙をかいた人は？



⑤ この部屋の名前は？



⑥ この魚の名前は？



⑦ この魚の名前は？



⑧ このゲームの名前は？



⑨ この生き物の名前は？



⑩ この花の名前は？